


Lucyna Jabłońska

Moja gmina
**DRAWSKO
POMORSKIE**

Zeszyt ćwiczeń do realizacji edukacji regionalnej
z elementami edukacji europejskiej
w młodszych klasach szkoły podstawowej



Drawsko Pomorskie 2016

Recenzenci

dr hab. Małgorzata Machałek (Uniwersyteckie Centrum Edukacji, Uniwersytet Szczeciński)

dr Paweł Migdalski (Instytut Historii i Stosunków Międzynarodowych, Uniwersytet Szczeciński)

mgr Katarzyna Rembacka (Biuro Edukacji Historycznej, Instytut Pamięci Narodowej)

Projekt okładki

Sonia Mikołajczyk

Redakcja i korekta

Eryk Krasucki

Łamanie

Przemysław Gamdzyk

Praca została wydana ze środków ze środków Muzeum Historii Polski w ramach Programu „Patriotyzm Jutra” oraz z darowizny przekazanej Stowarzyszeniu „Meander” przez Nadleśnictwo Drawsko.

Partnerzy projektu

Stowarzyszenie Przyjaciół Drawska „Meander”

Szkoła Podstawowa im. majora Henryka Sucharskiego w Drawsku Pomorskim

Nadleśnictwo Drawsko

Wydawca

Stowarzyszenie Przyjaciół Drawska „Meander”

meander.drawsko@gmail.com

Copyright © by Lucyna Jabłońska

Copyright © by Stowarzyszenie Przyjaciół Drawska „Meander”

All rights reserved

Wydanie I

ISBN 978-83-939367-2-4

Druk

Drukarnia Kadruk w Szczecinie

www.kadruk.com.pl

Licencja



Uznanie autorstwa-Użycie niekomercyjne-Bez utworów zależnych 3.0 Polska – Licencja ta zezwala na rozpowszechnianie, przedstawianie i wykonywanie utworu jedynie w celach niekomercyjnych oraz pod warunkiem zachowania go w oryginalnej postaci (nie tworzenia utworów zależnych). Jest to najbardziej restrykcyjna z licencji. <http://creativecommons.org/licenses/by-nc-nd/3.0/pl/>

Szkoła Podstawowa

im.


w

IMIĘ I NAZWISKO

kl.

1. MOJA SZKOŁA

2. Pokoloruj ilustrację:



1. Przy jakiej ulicy znajduje się Twoja szkoła?


2. Napisz imię i nazwisko dyrektora szkoły:

3. Jak nazywa się Twój wychowawca?

4. Napisz tytuł pieśni Twojej szkoły:

2. SYMBOLE SZKOŁY

1. Pokoloruj sztandar szkoły:



2. Przeczytaj słowa hymnu szkoły:

*Już szkolny dzwonek wzywa nas
więc idziemy, więc idziemy
Nauczyć się jak pięknie żyć,
jak drawskiej służyć ziemi.
Jak krwi żołnierskiej spłacić dług
za wolność tu przelanej.
Jak co dzień pilną pracą swą
Ojczyźnie służyć ukochanej*

*To nic że mało mamy lat
i odkrywamy jeszcze świat
Lecz my możemy, my możemy
jak ojciec nasz i starszy brat
Ojczystej służyć ziemi.*

*Nauka to nasz główny cel
i wielka szansa i zadanie
Kto nie rozumie prawdy tej
Za nami gdzieś zostanie.*

słowa: Ryszard Ulicki
muzyka: Karol Kadlec

3. Pokoloruj logo szkoły. Dokończ zdania:



Strój galowy składa się z:

Zakładam go:

Uzupełnij tekst wyrazami z ramki:

Moja Szkoła nosi imię

Mieści się przy ulicy

Najstarsza część szkoły to _____ pochodzi z roku _____

majora Henryka Sucharskiego

Obrońców Westerplatte 13

budynek B

1845

3. MURY MIEJSKIE



Mury miejskie to historyczne fortyfikacje otaczające dawniej miasta, chroniąc je przed atakami z zewnątrz.

1. Napisz ile bram znajdowało się w murach obronnych Drawska Pomorskiego?

2. Gdzie w Drawsku zachowały się fragmenty murów obronnych?

3. Co oprócz murów chroniło dawniej mieszkańców miasta?

4. W którym roku Drawsko Pomorskie uzyskało prawa miejskie?
Zamaluj na żółto właściwą datę.

1927


1792

1297

1279

5. Gdzie umieszcza się ten znak?


6. W jakim celu chroni się zabytki?




7. W którym miejscu w Twoim mieście znajduje się ten znak?

4. HERB I FLAGA MOJEGO MIASTA

1. Dorysuj brakujące elementy w herbie Drawskiego Pomorskiego. Pokoloruj pierwszy herb.



2. Napisz, co symbolizuje niebieska wstęga w herbie miasta?



3. Gdzie i kiedy można spotkać flagę Drawskiego?

5. RATUSZ MIEJSKI



1. Przepisz dokładny adres Urzędu Miejskiego.

Urząd Miejski
ul. Generała Władysława Sikorskiego 41
78-500 Drawsko Pomorskie

2. Podaj imię i nazwisko burmistrza Drawska Pomorskiego?

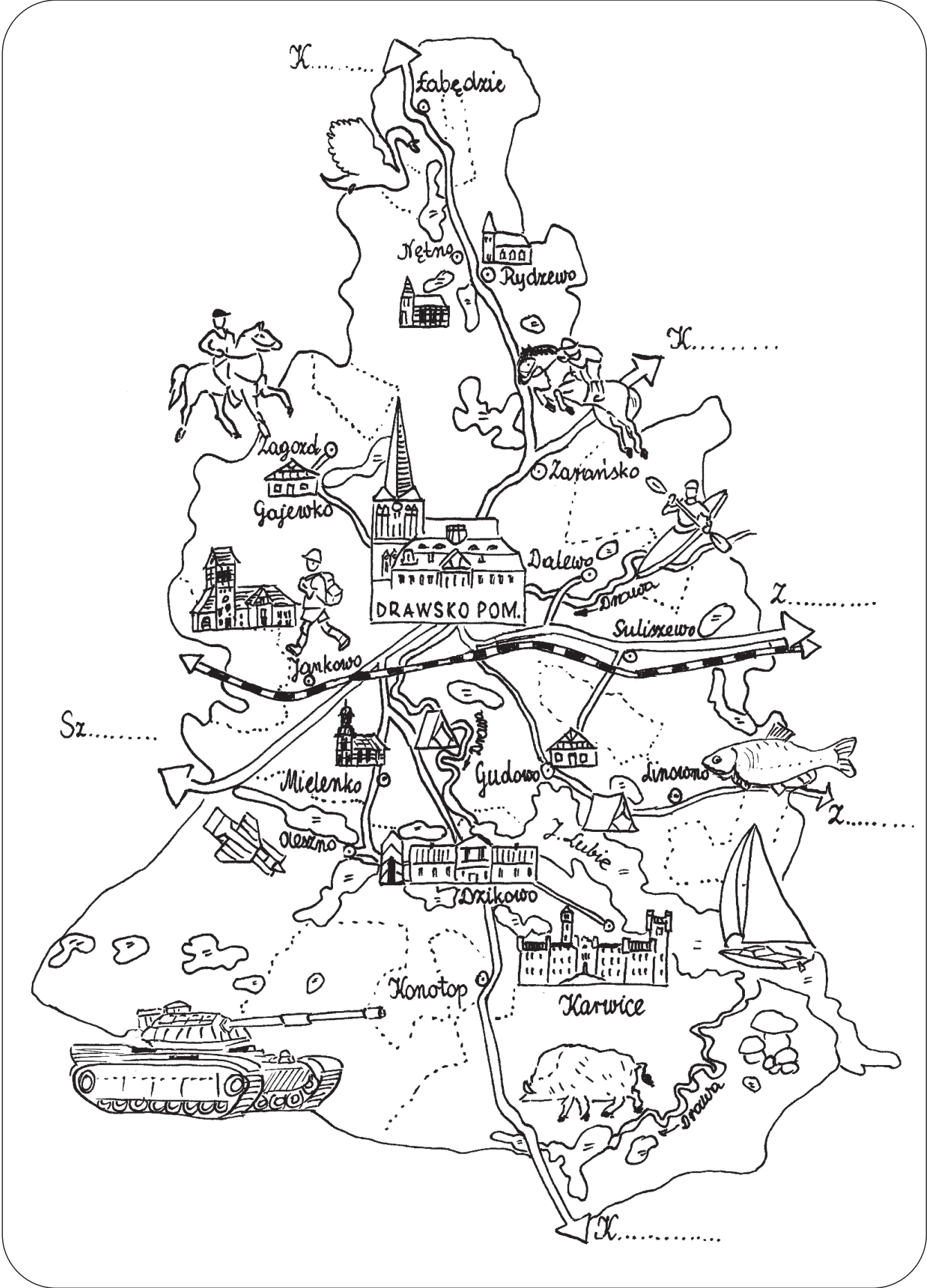
3. Jakie pytanie zadasz burmistrzowi Drawska Pomorskiego w czasie najbliższego spotkania?

6. MAPA MOJEJ GMINY

1. Obrysuj kontur Polski według szablonu i zaznacz na nim Drawsko Pomorskie, rzekę Wisłę i Warszawę.



2. Mapa na stronie przedstawia gminę Drawsko Pomorskie.
 - Zaznacz na niej kierunki: wschód, zachód, północ i południe.
 - Dopisz nazwy miejscowości na północy: Kołobrzeg i Koszalin, na wschodzie: Złocieniec, na południu: Kalisz Pomorski i na zachodzie: Szczecin.
 - Pokoloruj: zielonym kolorem lasy, a niebieskim rzekę Drawę i jeziora.



4. Z mapy gminy wypisz nazwy wszystkich miejscowości.
Pamiętaj o wielkiej literze na początku.

4. Przepisz nazwy miejscowości w kolejności alfabetycznej
(A A ą B C C ́ D E F G H I J K L Ł M N Ń O P R S Ś T U W Y Z Ź Ż).

7. MÓJ DOM


1. Napisz dokładnie swój adres. Pamiętaj o wielkich literach w nazwach.

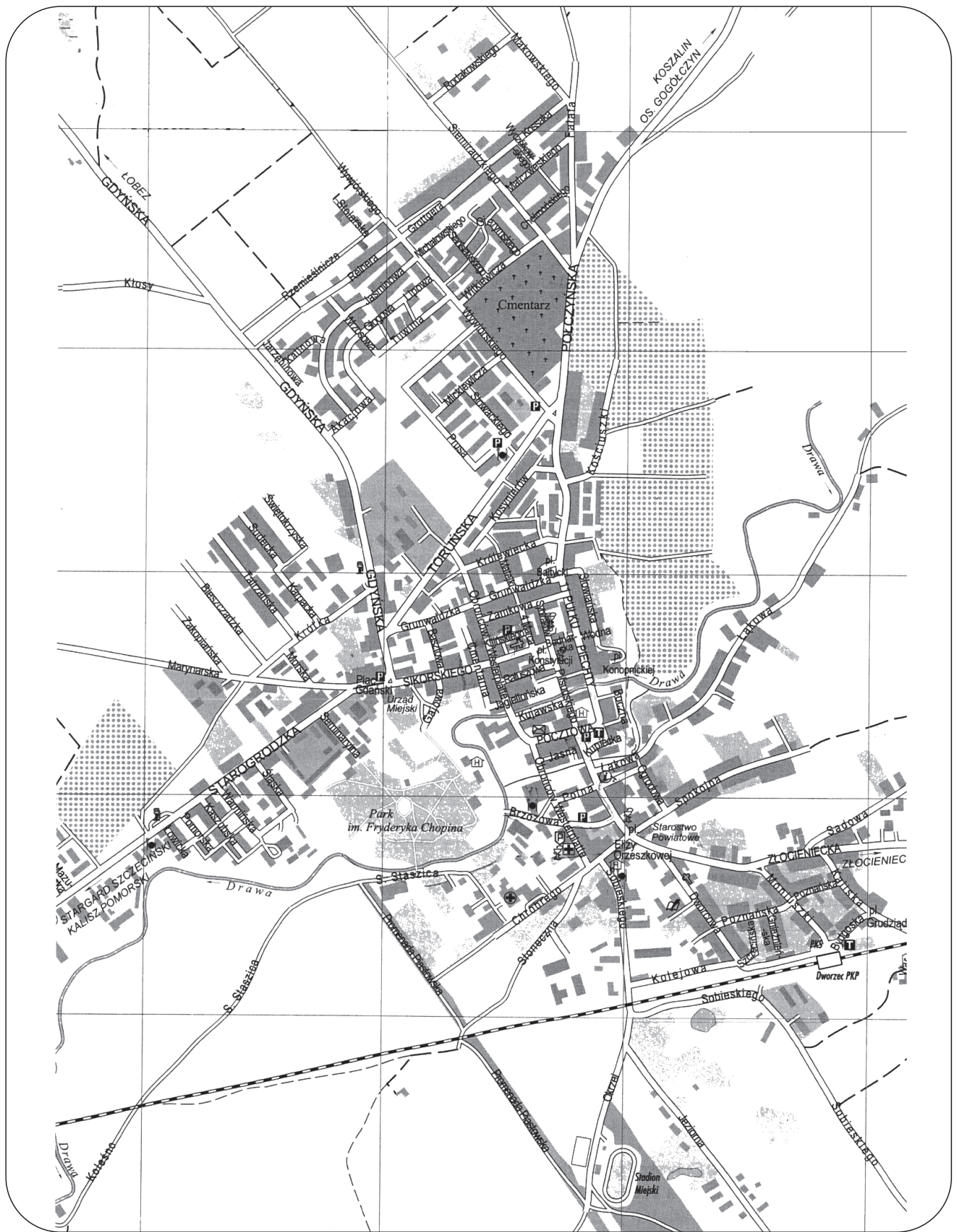
imię i nazwisko

ulica, numer domu

kod pocztowy nazwa miejscowości

2. Narysuj swój dom.





3. Na planie miasta zaznacz rzekę Drawę, park, cmentarz i stadion, swój dom i swoją szkołę. Narysuj swoją drogę do szkoły.

8. MOJA RODZINA

1. Wypisz imiona i nazwiska członków swojej rodziny (skorzystaj z pomocy swoich rodziców).

moja mama -

mój tata -

moje rodzeństwo -

dziadek (tata mojego taty) i babcia (mama mojego taty) -

dziadek (tata mojej mamy) i babcia (mama mojej mamy) -

2. Uzupełnij wyrazami z ramki.

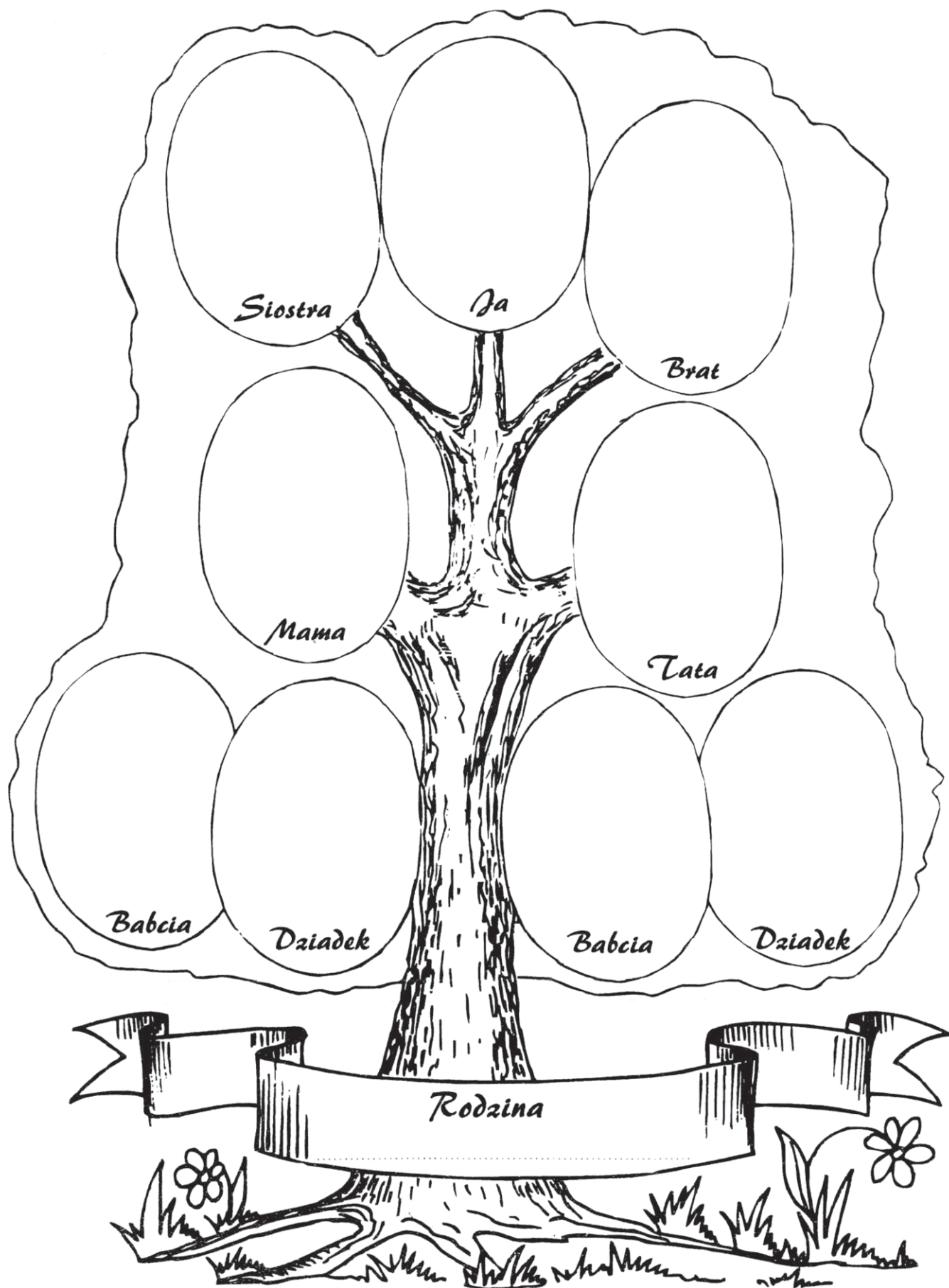
BRAT, WUJEK, PRADZIADK

tata dziadka

Twoja mama i tata
to jego rodzice

brat mamy

3. Wklej zdjęcia lub narysuj członków swojej rodziny.



9. MAGAZYN SOLI



1. Napisz, jaką funkcję pełnił ten budynek dawniej?

2. Jaki rodzaj budownictwa reprezentuje ten budynek?

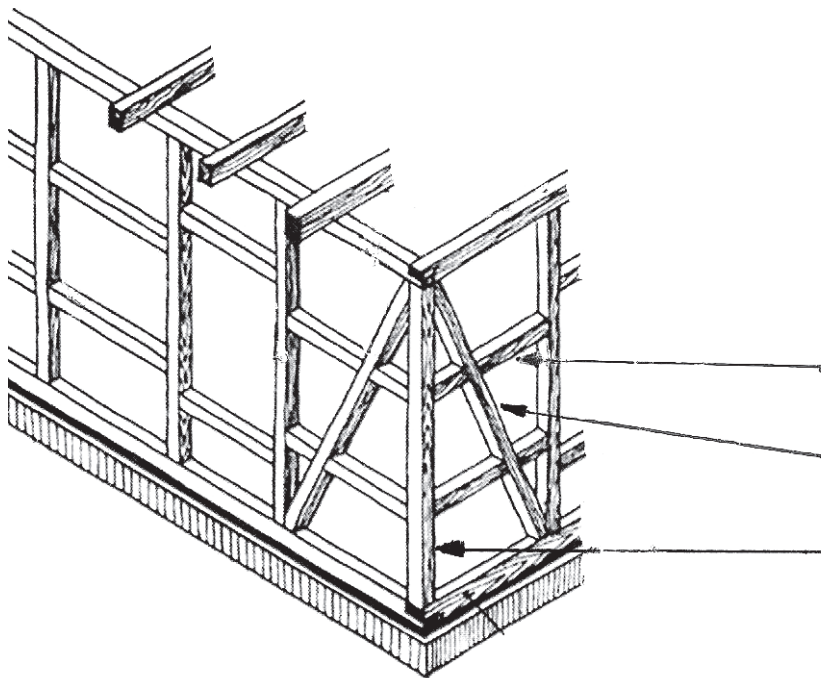
3. Policz, ile w widocznej ścianie magazynu solnego jest ...

słupów	okien	drzwi	kominów	zastrzałów	rygli


4. Magazyn solny pochodzi z 1700 r. Policz, ile ma lat?

Odp. Magazyn solny ma lat.

5. Zaznacz na rysunku elementy konstrukcyjne budynku (słupy, rygle, zastrzały).




6. Dorysuj drugą część budynku.



7. Napisz, które domy w Drawsku Pomorskim wybudowano w stylu ryglowym:


10. SPORT I WYPOCZYNEK W MOJEJ GMINIE



1. Pokoloruj rysunek. Napisz, jaki obiekt przedstawia i w którym roku go otwarto?

2. Napisz, jakie obiekty sportowe znajdują się w Twojej gminie?

3. Jaką nazwę nosi drużyna piłki nożnej w Twojej miejscowości?



1. Ułóż z sylab nazwę dyscypliny sportowej i wpisz w kratki pod rysunkiem odpowiednią liczbę.

1. KAR-WĘD-STWO

2. DA-KON-NA-JAZ

3. WĘD-SZE-PIE-RÓW-KI

4. ŁYŻ-STWO-WIAR

5. KA-PIŁ-NOŻ-NA

6. STWO-ŻE-GLAR

7. NIS-TE

8. NUR-NIE-WA-KO

9. ZDA-JA-NA-WE-RO-RZE


10. KA-JA-STWO-KAR

2. Narysuj inne formy aktywnego wypoczynku.



6. Napisz, w jaki sposób najchętniej spędzasz wolny czas?

11. RZEKA DRAWA



Drawa to jedna z najpiękniejszych rzek w Polsce. Ma 186 km długości. Turyści z całego kraju przyjeżdżają tu na spływy kajakowe. Płynąc Drawą muszą omijać różne przeszkody: leżące w wodzie pnie drzew, wielkie kamienie, płycizny i ostre zakręty. Szlak wodny na Drawie nosi imię ks. kardynała Karola Wojtyły, który kilkakrotnie pokonywał go kajakiem. Źródło Drawy znajduje się niedaleko miasta Połczyn Zdrój w Drawskim Parku Krajobrazowym. Dalej rzeka przepływa przez jezioro Drawsko, nad którym leży Czaplinek, następnie przez Złocieniec i Drawsko Pomorskie, jezioro Lubie i Poligon Drawski. Kolejne jest miasto Drawno i Drawieński Park Narodowy. Następnie w okolicach Krzyża Wielkopolskiego Drawa wpada do Noteci.

1. Przeczytaj uważnie tekst. Uzupełnij zdania wykorzystując wyróżnione wyrazy:

Rzeka Drawa ma długość km. Przepływa przez DPK

(.....),

PD (.....)

i DPN (.....)

W okolicach Krzyża Wielkopolskiego wpada do

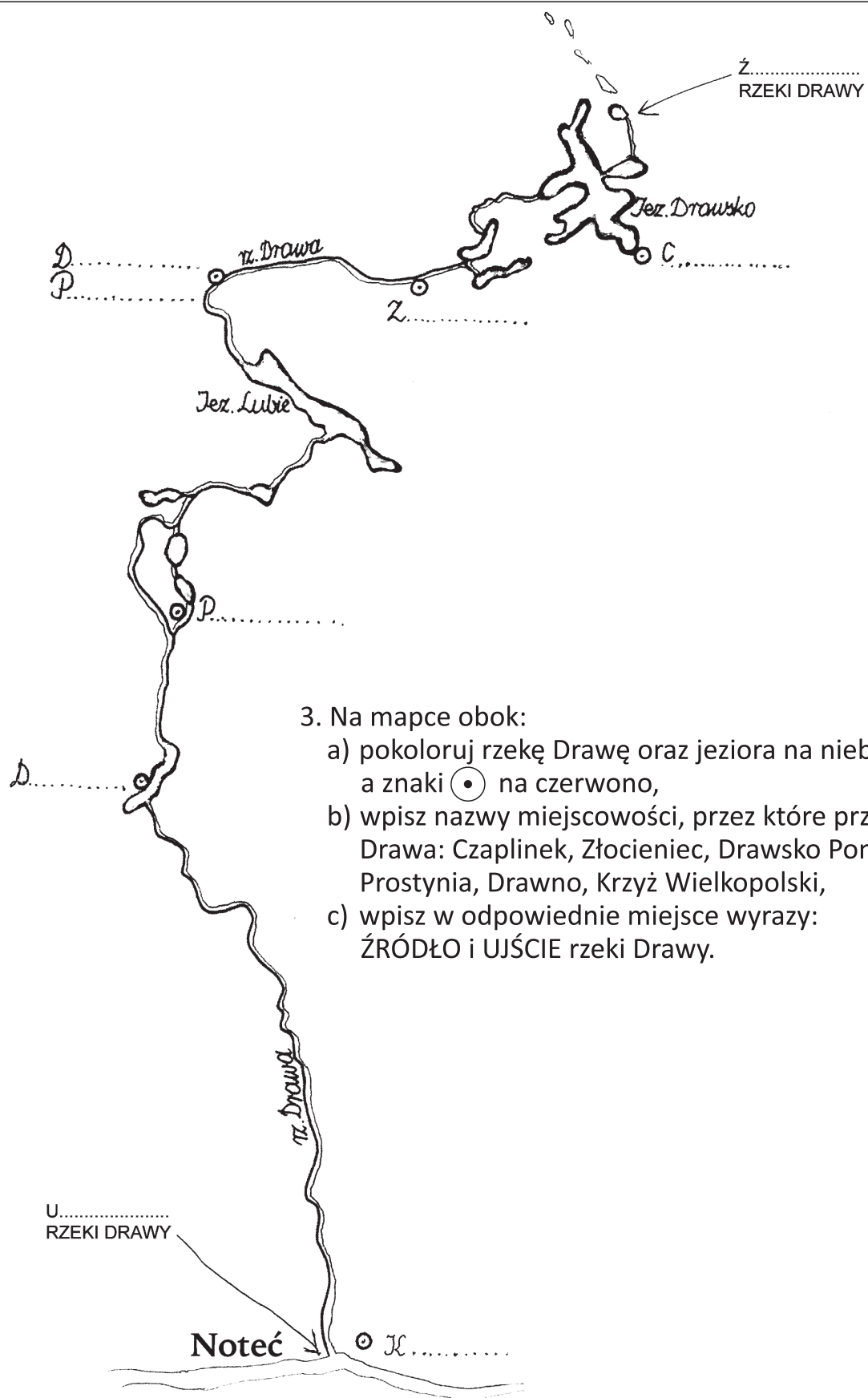
Rzeką Drawą wiedzie szlak kajakowy im.

2. Rozwiąż zadanie:

Drawą płynęło 9 kajaków. W każdym siedziały 2 osoby. Ilu kajakarzy płynęło Drawą?

Rozwiązanie:

Odpowiedź:



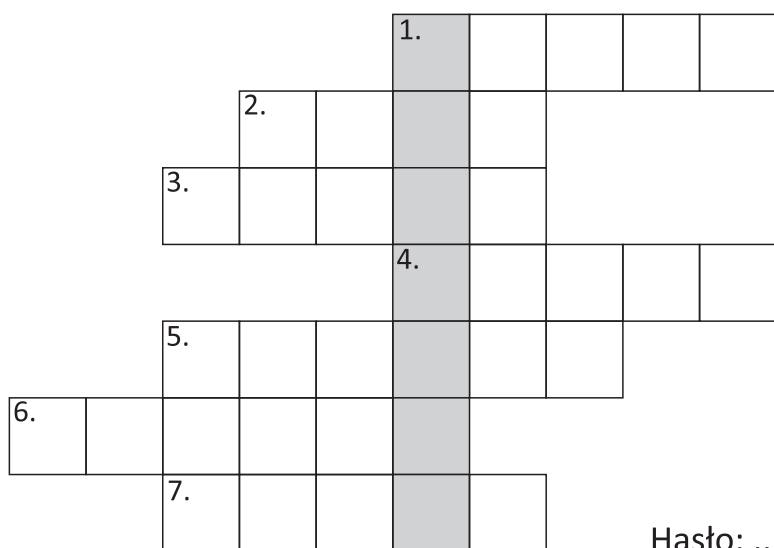
3. Na mapce obok:

- a) pokoloruj rzekę Drawę oraz jeziora na niebiesko, a znaki \odot na czerwono,
- b) wpisz nazwy miejscowości, przez które przepływa Drawa: Czaplinek, Złocieniec, Drawsko Pomorskie, Prostynia, Drawno, Krzyż Wielkopolski,
- c) wpisz w odpowiednie miejsce wyrazy: ŹRÓDŁO i UJŚCIE rzeki Drawy.

4. Na mapie konturowej Polski znajdź i podpisz Warszawę, Szczecin, Drawsko Pomorskie, rzekę Wisłę, Odrę, Drawę i Noteć. Pokoloruj na niebiesko fragment Morza Bałtyckiego przy polskim wybrzeżu



5. Rozwiąż krzyżówkę:



1. Przepływa przez nasze miasto.
2. Druga co do wielkości rzeka w Polsce.
3. Można nim pływać po rzece.
4. Największa rzeka w Polsce.
5. Potrzebne, żeby poruszać kajakiem.
6. Morze, nad którym leży Polska.
7. Trzeba mieć go na sobie, żeby być bezpiecznym w kajaku.

Hasło:

12. NADLEŚNICTWO DRAWSKO



Pierwsi polscy leśnicy na teren Drawskiego Pomorskiego dotarli w roku 1945 i od tej pory rozpoczęto zagospodarowywanie obszarów leśnych. Siedziba Nadleśnictwa w Drawsku Pomorskim znajduje się w nowym budynku przy ul. Starogrodzkiej. Zadaniem nadleśnictwa jest prowadzenie gospodarstwa leśnego w zakresie hodowli i ochrony lasu, pozyskania drewna oraz budowy dróg leśnych i obiektów leśnych. Na czele nadleśnictwa stoi nadleśniczy.

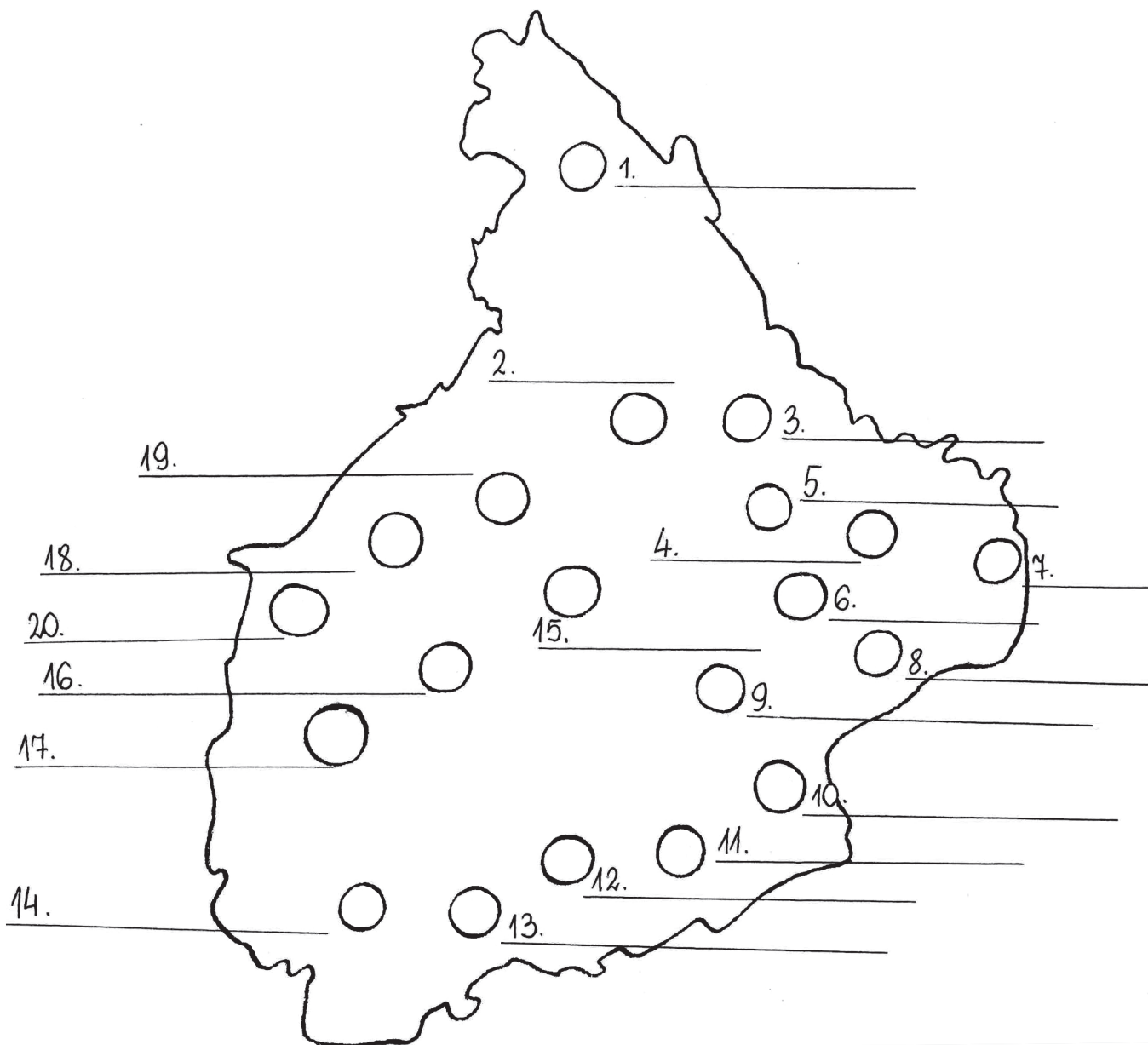
1. Podkreśl nazwę ulicy, przy której znajduje się siedziba Nadleśnictwa Drawsko Pomorskie oraz zadania, jakie są przez nie prowadzone.

2. Symbol ochrony lasów przed pożarem to stylizowane, płonące drzewko świerkowe. Pomaluj rysunek.




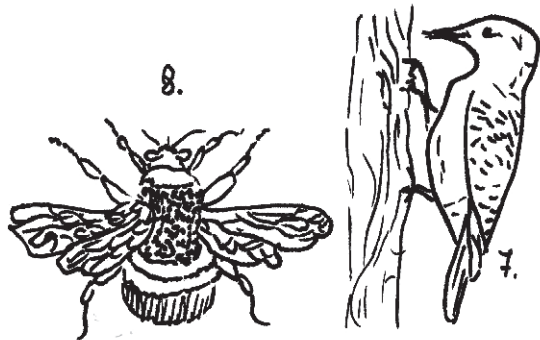






3. Na mapce wpisz nazwy leśnictw i pokoloruj ją kolorami kojarzącymi Ci się z lasem.

- | | |
|---------------|--------------|
| 1. Oleszno | 11. Suchowo |
| 2. Dzikowo | 12. Borowo |
| 3. Karwice | 13. Jaworze |
| 4. Murzynka | 14. Głębokie |
| 5. Konotop | 15. Łowicz |
| 6. Żołędowo | 16. Pełknica |
| 7. Zofiówka | 17. Czerty |
| 8. Jałowcówka | 18. Studnia |
| 9. Pożrzadło | 19. Ziemsko |
| 10. Pomierzyn | 20. Ciemnik |




4. Wpisz do krzyżówki nazwy zwierząt leśnych.



Hasło:

13. PARK MIEJSKI



Park Miejski im. Fryderyka Chopina został założony w 1875 r. Przed wojną nazywany był "Gajem Luizy". Rozciąga się on w zakolu prawego brzegu rzeki Drawy. W parku rośnie okazały dąb szypułkowy o obwodzie 5 m, który jest pomnikiem przyrody. Obok dębu został wzniesiony tzw. megalit, Jest to półokrąg kamienny, który ma upamiętniać przełom tysięcy lat. Park urozmaicają aleje obsadzone kasztanowcami i grabami oraz rosnące w parku drzewa rodzime (m.in. brzozy, buki, jesiony, klony, lipy, świerki i wiąz).

1. Przeczytaj uważnie tekst. Podkreśl nazwy drzew i przepisz je poniżej.

2. Odpowiedz na pytania, korzystając z tekstu.

Co to jest megalit?


Czym jest okazały dąb szypułkowy o obwodzie 5 m?

3. W jaki sposób można spędzać czas w parku miejskim?

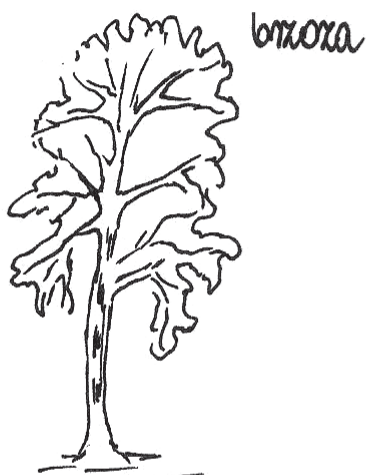
Ułóż 3 zdania wykorzystując wyrazy z ramki.

*słuchać, grać, obserwować, szum, rzeka, ptaki, rośliny, korty tenisowe,
orlik, skate park, plac zabaw, muszla koncertowa, ławki, ścieżka rowerowa*

4. Pokoloruj drzewa i uzupełnij tabelkę.



dąb



brzoza



buk

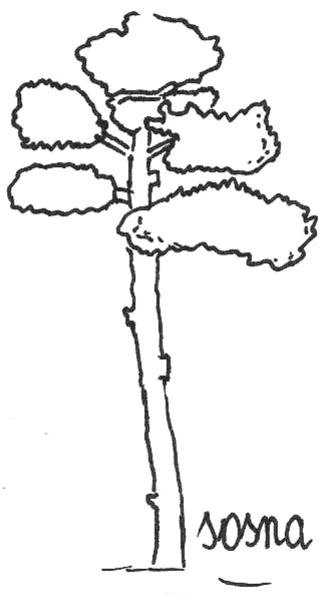


topola


drzewa liściaste	drzewa iglaste
1.	1.
2.	2.
3.	3.
4.	4.



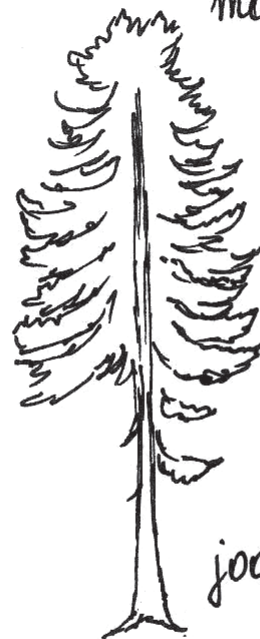
modrzew



sosna



świerk



jodła

14. SPICHLERZ W JANKOWIE



We wsi Jankowo znajduje się budynek **spichlerza**, zaprojektowany przez światowej sławy architekta **Waltera Gropiusa**. Jest to jedyny zachowany w oryginale obiekt z dawnego zespołu folwarcznego. Spichlerz, oprócz funkcji **magazynowych**, pełnił również rolę **wieży ciśnień folwarku**.

1. Napisz, kto zaprojektował ten budynek?

2. Jaką funkcję dawniej pełnił ten budynek?

3. Podpisz nazwy zbóż:



4. Rozwiąż krzyżówkę.

1.																			
2.																			
3.																			
4.			Ę																
5.																			
6.																			
7.																			
8.																			
9.																			
10.																			
11.																			
12.																			

- 1. Cyka w zbożu.
- 2. Okres zbioru plonów.
- 3. Ziele na herbatę.
- 4. Jedno ze zbóż.
- 5. Budynek w którym pachnie sianem.
- 6. Wielofunkcyjna maszyna rolnicza.
- 7. Magazyn zboża.
- 8. Powstaje z mąki.
- 9. Zastąpił go traktor.
- 10. Uprawia ziemię.
- 11. Ma strąki, choć to nie groch.
- 12. Twoje miasto powiatowe.


Hasło:

4. Napisz, z czego robi się wieniec dożynkowy?

5. Ułóż zdanie z rozsypanki i zapisz je.

Dożynki	Święto	jesieni.	dawniej	pierwszy
Plonów	to	obchodzone	dzień	w

15. MIEJSCA PAMIĘCI NARODOWEJ



1. Pokoloruj rysunek przedstawiający pomnik ku czci żołnierzy poległych w czasie II wojnie światowej i napisz, gdzie on się znajduje?

2. Pokoloruj wyrażenia tak, by powstałe zdania były odpowiedzią na pytanie „Co to jest patriotyzm?”

<i>Postawa miłości do ojczyzny, której</i>
<i>Duma z tego, że jest się Polką i Polakiem oraz</i>
<i>Znajomość polskiej historii i pamięć o tych,</i>
<i>Znajomość polskiej kultury</i>

<i>i przekazywanie jej innym.</i>
<i>uczymy się od najmłodszych lat.</i>
<i>znajomość swojego kraju.</i>
<i>którzy zginęli walcząc za nasz kraj.</i>

3. Napisz, z jaką datą kojarzy się nazwa ulicy 4 Marca?

4. Odszyfruj ukryte hasło i zapisz je. Pamiętaj o wielkich literach.

®	☺	€	\$	¥	©	X	%	α	#	∩	∅	@	Σ	&
R	O	T	S	I	E	J	M	A	H	C	K	D	W	P

∅	☺	∩	#	α	%

%	☺	X	©

%	¥	α	\$	€	☺

@	®	α	Σ	\$	∅	☺

&	☺	%	☺	®	\$	∅	¥	©

Hasło:

16. DRAWSKIE LEGENDY

1. Przeczytaj fragmenty publikacji „Legendy na szlakach Pojezierza Drawskiego” Jarosława Leszczeńskiego, zamieszczonej w Wydaniu Specjalnym „Tygodnika Pojezierza Drawskiego” w 2006 r.

Na ulicy 11 Pułku Piechoty mieszkańcy dziewiętnastowiecznego miasta spotykali złowrogi powóz-widmo. Powóz pojawiał się zawsze w porze duchów – między północą a godziną pierwszą. Pędził od strony dawnej Bramy Zarańskiej. Pojazd ciągnęły czarne jak smoła konie, których sapanie i rzenie złowrogo rozlegało się w uśpionym mieście. Spóźnieni przechodnie ratowali się przed stratowaniem, trwożliwie przytulając się do ścian domów. Konie poruszały się w niesamowity i nienaturalny sposób: pomimo głośnych uderzeń podków o bruk wydawały się płynąć w powietrzu. Powóz ostro zakręcał w ulicę Zamkową (Burgstrasse) i pędził przez ulice: Klasztorną (dzisiaj Obrońców Westerplatte), Wielkorynkową (Sikorskiego) i Starogrodzką do majątku Goltzów w pobliżu parku Chopina (dawniej Gaj królowej Elizy). Tam pojazd zatrzymywał się, by za chwilę ruszyć w dalszą drogę w kierunku Węgorzyna. Wiele osób widywało ten sam straszliwy powóz, który pędził w kierunku odwrotnym: od Bramy Starogrodzkiej do 11 Pułku Piechoty. Powóz rozpływał się wtedy w powietrzu w pobliżu mostu na Drawie, który nazywany był na cześć dawnego burmistrza Drawska mostem Steobanusa.

(...) Jeszcze przed II wojną światową mieszkańcy Drawska opowiadali o krasnoludkach, które widywano na tej ulicy. (...) drawskie krasnoludki pomagały w pracy pewnemu mieszkańcowi miasteczka, który żył z uprawy ziemi. Gospodarz był człowiekiem skromnym i pracowitym, czym zasłużył sobie na takie nadprzyrodzone wsparcie.

(...) w 1380 roku zbudowany został średniowieczny klasztor franciszkanów w Drawsku Pomorskim. (...) Zabudowania klasztorne znajdowały się u zbiegu ulic Obrońców Westerplatte i Pocztovej, w miejscu dzisiejszej szkoły. Dlatego do 1945 roku ulica Obrońców Westerplatte nosiła nazwę Klasztornej. Drawsko Pomorskie (...) może się pochwalić legendą o tunelu. Takie podziemne przejście miało prowadzić ze starego klasztoru pod Drawą do drawskiego kościoła. Mnisi korzystali z niego, udając się do kościoła. Tunel zapadł się po likwidacji klasztoru. Podobno byli śmiałkowie, którzy wchodzili do tych podziemi, musieli jednak zawrócić, gdyż natrafiali na odcinki zalane wodą.(...)

Poszukiwaczy skarbów zainteresuje legenda, która związana jest z okolicą obecnej ulicy Tadeusza Kościuszki: Od setek lat żądni łatwego wzbogacenia mieszkańcy grodu udawali się w to miejsce w poszukiwaniu skarbu. Aby go zdobyć, należało dotrzeć tam w godzinę duchów i kopać, nie wypowiadając ani jednego słowa. Najmniejszy dźwięk wydany przez poszukiwacza niweczył całe przedsięwzięcie. Po chwili kopania można było dotrzeć do żelaznej skrzyni wypełnionej złotymi monetami. Ale zabranie skarbu nie było łatwe.(...)